



Examenul național de bacalaureat  
Proba E. d)  
Geografie

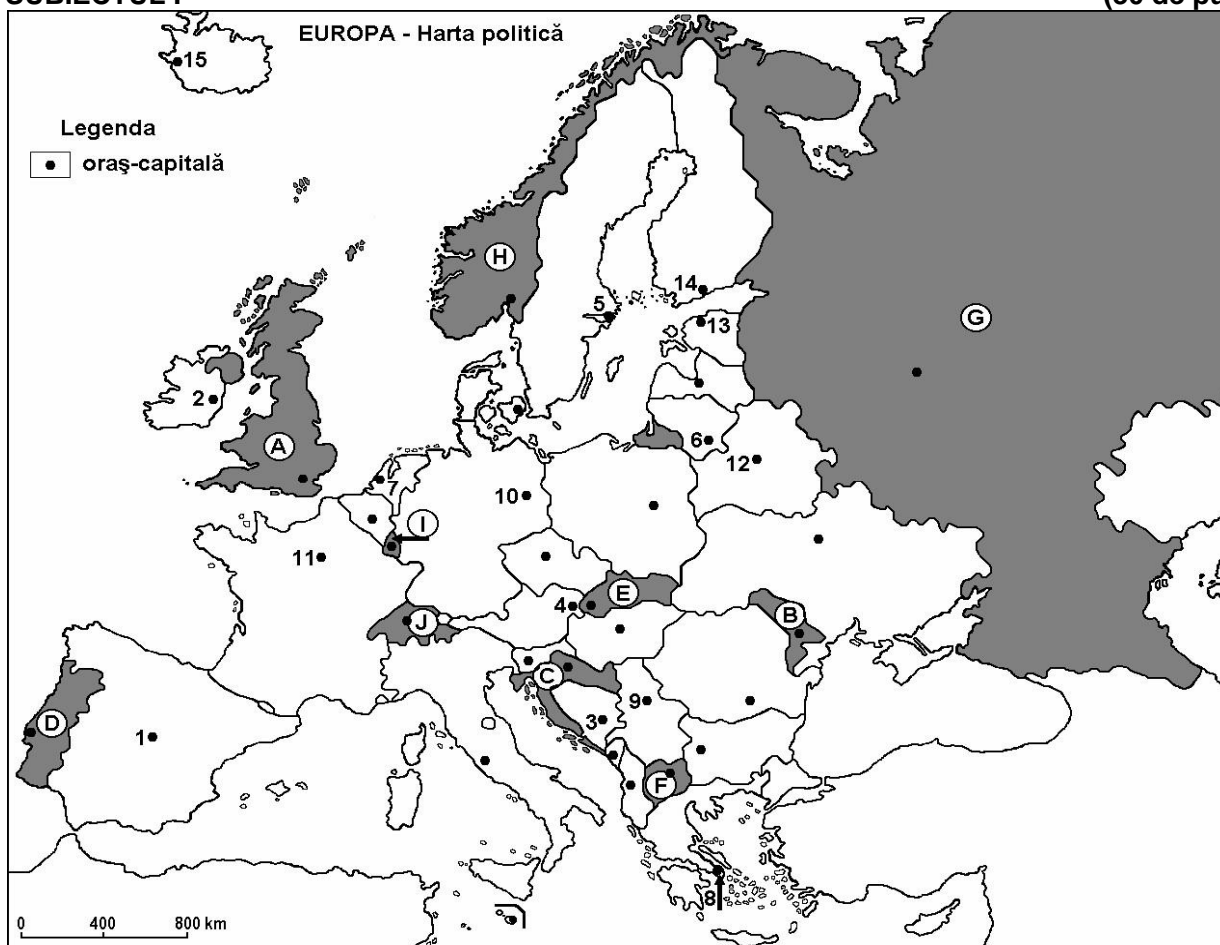
Test antrenament 6

*Profilul umanist din filiera teoretică, profilul servicii din filiera tehnologică și toate profilurile și specializările din filiera vocațională, cu excepția profilului militar.*

- Toate subiectele sunt obligatorii. Se acordă 10 puncte din oficiu.
- Timpul de lucru efectiv este de 3 ore.

SUBIECTUL I

(30 de puncte)



Harta de mai sus se referă la subiectul I A – D. Pe hartă sunt marcate state cu litere și orașe - capitală cu numere.

A. Precizați:

1. numele statului marcat, pe hartă, cu litera H;
2. numele orașului-capitală marcat, pe hartă, cu numărul 1.

4 puncte

B. Scrieți, pe foaia de examen, răspunsurile corecte care completează afirmațiile de mai jos:

1. Orașul Sarajevo este marcat, pe hartă, cu numărul...
2. Statul marcat, pe hartă, cu litera D se numește ...
3. Orașul străbătut de fluviul Sena este marcat, pe hartă, cu numărul...

6 puncte



C. Scrieți, pe foaia de examen, litera corespunzătoare răspunsului corect pentru fiecare dintre afirmațiile de mai jos:

1. Capitala statului marcat, pe hartă, cu litera **F** se numește:  
a. Ljubljana                      b. Skopje                      c. Tirana                      d. Zagreb                      **2 puncte**
2. Munți formați în orogeneza caledoniană se găsesc pe teritoriul statului marcat, pe hartă, cu litera:  
a. B                      b. E                      c. F                      d. H                      **2 puncte**
3. Statul marcat, pe hartă, cu litera **I** se numește:  
a. Liechtenstein                      b. Luxemburg                      c. Monaco                      d. San Marino                      **2 puncte**
4. Orașul marcat, pe hartă, cu numărul **6** se numește:  
a. Helsinki                      b. Riga                      c. Tallinn                      d. Vilnius                      **2 puncte**
5. Orașul marcat, pe hartă, cu numărul **12** este capitala statului:  
a. Belarus                      b. Estonia                      c. Polonia                      d. Ucraina                      **2 puncte**

D. Precizați trei deosebiri între **clima** statului marcat, pe hartă, cu litera **A** și **clima** statului marcat, pe hartă, cu litera **B**.

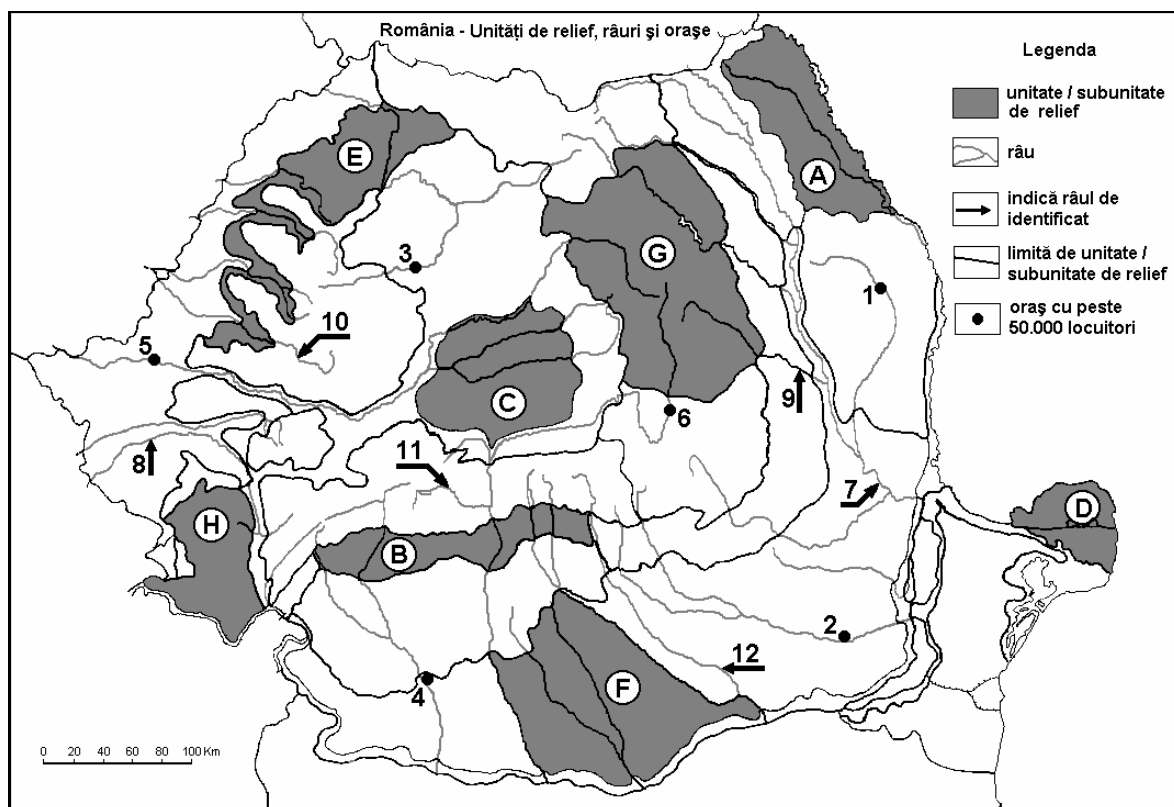
**Nota 1:** Deosebirile se pot referi la oricare dintre următoarele elemente de **climă**: factori genetici, tip de climă, temperaturi medii anuale/vara/iarnă, amplitudine termică, precipitații medii anuale/vara/iarnă, vânturi cu frecvență ridicată.

**Nota 2:** Punctajul complet va fi acordat numai dacă deosebirile vor fi prezentate comparativ și nu separat. **6 puncte**

E. Prezentați două cauze care au condus la apariția, dispariția sau modificarea teritoriului unor state europene. **4 puncte**

## SUBIECTUL al II-lea

(30 de puncte)



Harta de mai sus se referă la subiectul II A – E. Pe hartă sunt marcate unități de relief cu litere, orașe cu numere de la 1 la 6 și râuri cu numere de la 7 la 12.



**A. Precizați:**

1. numele orașului marcat, pe hartă, cu numărul 4;
2. numele râului marcat, pe hartă, cu numărul 7.

**4 puncte**

**B. Scrieți, pe foaia de examen, răspunsurile corecte care completează afirmațiile de mai jos:**

1. Orașul marcat, pe hartă, cu numărul 5 se numește ...
2. Resurse de gaz metan există în subsolul unității de relief marcată, pe hartă, cu litera ...
3. Cel mai mare oraș, ca număr de locuitori, pe care îl străbate râul marcat, pe hartă, cu numărul 12 se numește ...

**6 puncte**

**C. Scrieți, pe foaia de examen, litera corespunzătoare răspunsului corect pentru fiecare dintre afirmațiile de mai jos:**

1. Influențe climatice oceanice pătrund în unitatea de relief notată pe hartă cu litera:  
a. A                      b. D                      c. E                      d. F                      **2 puncte**
2. Cea mai nouă unitate de relief din Romania este marcată, pe hartă, cu litera:  
a. C                      b. D                      c. F                      d. H                      **2 puncte**
3. Cărbuni, petrol, gaze naturale și sare se găsesc în unitatea de relief marcată, pe hartă, cu litera:  
a. A                      b. B                      c. C                      d. F                      **2 puncte**
4. Orașul marcat, pe hartă, cu numărul 6 se numește:  
a. Brașov              b. Covasna              c. Miercurea Ciuc              d. Sfântu Gheorghe              **2 puncte**
5. Râul marcat, pe hartă, cu numărul 10 se numește:  
a. Barcău              b. Crișul Alb              c. Crișul Negru              d. Crișul Repede              **2 puncte**

**D. Precizați trei deosebiri între relieful unității marcate, pe hartă, cu litera G și relieful unității marcate, pe hartă, cu litera H.**

**Nota 1:** Deosebirile se pot referi la oricare dintre următoarele aspecte ale reliefului: mod de formare, tipuri de roci pe care s-a format relieful, altitudini, fragmentare, tipuri de relief, orientarea culmilor și a văilor principale, dispunerea depresiunilor, alte aspecte specifice ale reliefului.

**Nota 2:** Punctajul complet va fi acordat numai dacă cele trei deosebiri vor fi prezentate comparativ și nu separat. **6 puncte**

- E. 1.** prezentați o cauză care explică densitatea redusă a populației din Munții Carpați. **2 puncte**  
**2.** o cauză care explică diferența de temperatură medie anuală dintre sudul și nordul țării. **2 puncte**

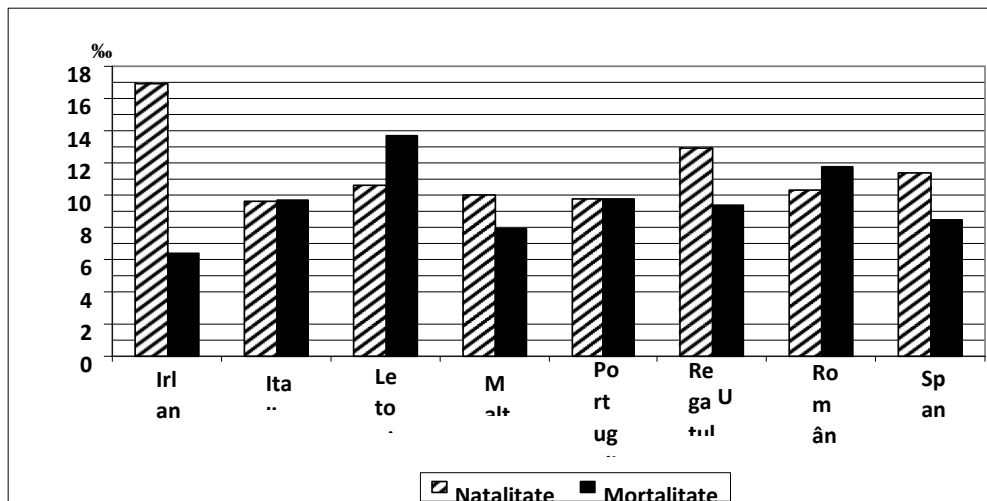


**SUBIECTUL al III-lea**

**(30 de puncte)**

Reprezentarea grafică de mai jos se referă la subiectul III A - B și prezintă valorile natalității și mortalității în câteva state europene, în anul 2008, exprimate la o mie (‰) de locuitori.

Sursa: Institutul Național de Statistică, Anuarul Statistic 2009 – estimări la nivelul anului 2008



**A. Precizați:**

1. statul în care s-a înregistrat cea mai mare natalitate (la ‰) și valoarea acesteia;
2. statul în care s-a înregistrat cea mai mare mortalitate (la ‰) și valoarea acesteia.

**4 puncte**

**B. Precizați:**

1. valoarea bilanțului (sporului) natural al populației în România;
2. statul care are cel mai mare bilanț (spor) natural al populației;
3. valoarea bilanțului (sporului) natural al populației în Portugalia.

**6 puncte**

**C. Pentru Republica Moldova, precizați:**

1. numele a două state vecine;
2. numele a două unități de relief;
3. tipul de climă;
4. numele a două râuri;
5. trei orașe.

**10 puncte**

**D. Tabelul de mai jos prezintă evoluția numărului de locuitori în două state europene.**

Statul	1960	1990	2012
România	18.319.200	23.211.400	21.355.800
Spania	30.327.000	38.826.300	46.196.300

Sursa: Eurostat Pocketbooks; European social statistics – 2013 edition

1. Calculați cu cât a scăzut numărul de locuitori din România în perioada 1990 – 2012.
2. Calculați cu cât a crescut numărul de locuitori din Spania în perioada 1960 – 2012.
3. Prezentați o cauză care explică evoluția numărului de locuitori din România în perioada 1990 – 2012.

**6 puncte**

**E. Prezentați două cauze ale mobilității teritoriale a populației între statele Europei.**

**4 puncte**