



**EVALUAREA COMPETENȚELOR FUNDAMENTALE
LA FINALUL CLASEI a II-a
2017**

Test 2

MATEMATICĂ

Județul / sectorul.....

Localitatea.....

Școala.....

Numele și prenumele elevei / elevului.....

.....

Clasa a II-a.....

Băiat ☐

Fată ☐

Учні II-го класу люблять природу, так що разом з вчителькою рушили в похід по лісу, щоб відкрили таємниці комах. Дивувалися багатокольоровими квітами і дивилися на комахи. В кінці дня, записали на картончики число побачених комах. Число цих, написане в нижчеподаній таблиці. Вчителька приготувала учням декілька запитань.

			
79 сонечків	149 метеликів	300 бабок	45 бджілок

1. Скільки сонечків і бабок ви бачили разом в лісі?
Обведи букву, яка показує правильну відповідь.

- a) 124
- b) 228
- c) 345
- d) 379

Nu se completează de către elev
COD

1.

2. Александру має порівнювати число метеликів з числом бабок.
Напиши і ти, один із знаків <, =, >, так щоб відношення було правильним.

149 300

Nu se completează de către elev
COD

2.

3. На скільки більше є число метеликів ніж число сонечків?
Обведи букву, яка показує правильну відповідь.

- a) 60
b) 70
c) 80
d) 170


Nu se completează de către elev
COD

1

4. Ана помітила кілька сонечків, які сіли на квіти, як в поданому зображенні. Скільки сонечків разом сіли на квіти?

Знайди і ти результат вживаючи повторне додавання з однаковими доданками.

Напиши внизу розв'язання задачі.

[illegible]

Nu se completează de către elev
COD


10

5. В лісі є два види метеликів. Аліна знає що метелик з одного виду живе 16 днів, а метелик з іншого виду 8 днів.

На скільки разів менше живе метелик другого виду?

Знайди і ти результат вживаючи повторне віднімання з однаковими числами.

Напиши внизу розв'язання задачі.



Nu se completează de către elev
COD

5.

6. Елена kaže що полічила в лісі 149 метеликів. Йонуц повинен сказати між якими натуральними числами знаходиться це число.

Обведи букву, яка показує правильну відповідь.

149

a) 147 și 149

b) 148 și 151


c) 148 și 150

d) 150 și 151

Nu se completează de către elev
COD

6.





7. Марія полічила 4 бабки, а Андрея у 6 разів більше.
Маріус має обчислити скільки бабок полічила Андрея.
Напиши внизу розв'язання задачі.



Nu se completează de către elev
COD

7.

8. Діти наліпили на картончики зображення побачених комах.
З якою геометричною фігурою подібний картончик на якому наліплений метелик?
Обведи букву, яка показує правильну відповідь.



- a) коло
- b) прямокутник
- c) квадрат
- d) трикутник


Nu se completează de către elev
COD

8.

9. Крістіна має обчислити на скільки більше число метеликів ніж число бджілок. Вона написала сліуючу вправу: $149 - 45 = 104$.

Перевір ти, через протилежну дію, чи правильно обчислила Крістіна.

Напиши внизу перевірку вправи.




Nu se completează de către elev
COD

9.

10. Андрей зробив картину використовуючи геометричні фігури.

Скільки трикутників і скільки колів використовував для здійснення сонця?

Обведи букву, яка показує правильну відповідь.



- a) 5 трикутників і 2 кола;
- b) 6 трикутників і 1 коло;
- c) 7 трикутників і 1 коло;
- d) 8 трикутників і 2 кола.

Nu se completează de către elev
COD

10.

11. Раду мав полічити двійками (від два на два) метелики, які побачив в лісі.
Допоможи продовжити лічення.
Напиши і ти ці числа.

36

40

46

Nu se completează de către elev
COD

11.

12. На кінці, хлопчики сіли по 3 в 5 рядів. Їх досить, щоб танцювали з 15 дівчатками, так щоб створили пари?
Поясни внизу твою відповідь.

Так, тому що _____

Ні, тому що _____

Nu se completează de către elev
COD

12.

FELICITĂRI, AI AJUNS LA SFÂRȘITUL TESTULUI!
MULȚUMIM PENTRU PARTICIPARE!